



## أوراق العمل تجميع

الاسم: ..... الصف: - السابع / ..... المادة: - الدراسات الاجتماعية

السؤال الأول:- عرف ما يلي:

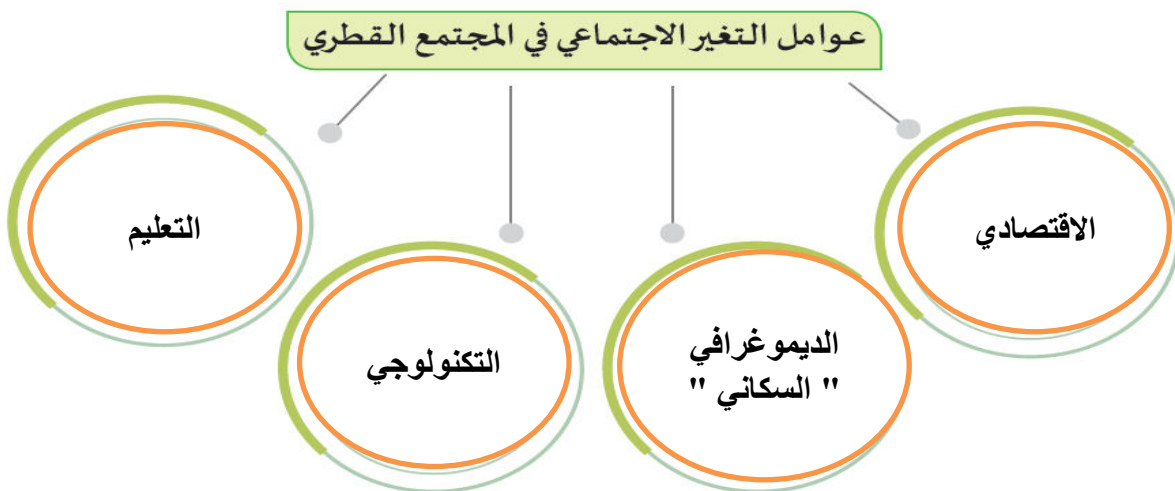
التحول في عدد الافراد وتوزيعهم وتركيبهم ومعدل الإنتاج وعدد  
الوافدين

التغير الكمي :

التحول في الطريقة التي يعيش فيها افراد المجتمع وأسلوب التفاعل  
بينهم مثل القيم و العادات والتقاليد ودور الاسرة

التغير النوعي

السؤال الثاني:- أكمل الشكل التالي



السؤال الثالث :

لعب التطور الاقتصادي دورًا بارزًا في إحداث التغيرات في المجتمع القطري، وضّح ذلك.

1 انتقل المجتمع من مجتمع يمارس الأنشطة المحدودة الى مجتمع تتنوع فيه الأنشطة الاقتصادية

2 ظهور التخصصات المختلفة التي لم تكن موجودة مسبقا

3 ارتفاع مستوى المعيشة وتغير أنماط الاستهلاك



## أوراق العمل تجميع

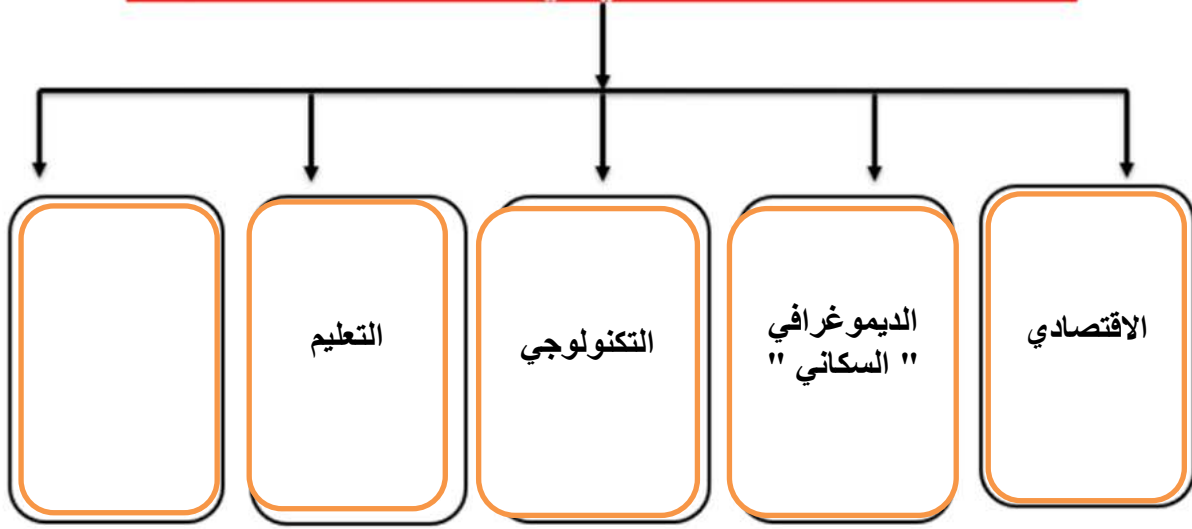
المادة:- الدراسات الاجتماعية

الصف:- السابع / .....

الاسم: .....

السؤال الاول :- أكمل المخطط التالي مظاهر التغير الاجتماعي في المجتمع القطري :

### مظاهر التغير الاجتماعي في المجتمع القطري



السؤال الثاني :- وضح الدور الذي تلعبه كل من الجهات التالية في الحفاظ على الهوية القطرية

1- إدارة التراث والهوية:

- إقامة الفعاليات التراثية

دعم وتطوير التراث القطري العربي

تعزيز مقومات الهوية الوطنية

2- الحي الثقافي كتارا :

1 الريادة العالمية في الأنشطة الثقافية

2 ملتقى للمبدعين والمثقفين

3 المساهمة في نشر الوعي الثقافي من خلال تنظيم المهرجانات والمعارض والندوات

المادة:- الدراسات الاجتماعية

الصف:- السابع / .....

الاسم: .....



## أوراق العمل تجميع

1- أي من الأسباب البشرية الآتية تؤدي إلى تلوث الهواء؟

- أ- دخنة المصانع.
- ب- مياه الصرف الصحي.
- ج- الدخان البركاني.
- د - دفن النفايات النووية.

2- يؤدي التوسع العمراني إلى تلوث:

- أ- لتربة.
- ب- الهواء.
- ج- البحار.
- د - الأنهار.

3- تتعرض مياه البحار للتلوث بسبب:

- أ- قطع الغابات.
- ب- الثورات البركانية.
- ج- إلقاء مخلفات المدن.
- د- استخدام الأسمدة الكيماوية.

السؤال الثاني: بم تفسر تعرض الهواء للتلوث ؟

1 حرائق الغابات

2 الدخان والرماد البركاني من الثورات البركانية

3 إطلاق المواد الكيماوية والغازات السامة في الهواء من المصانع والسيارات ومحطات توليد

الطاقة الكهربائية

4 استخدام مركبات الكلوروفلوروكربون في أجهزة التبريد وتكييف الهواء

5 تسرب المواد المشعة من المفاعلات النووية .

السؤال الثالث : عدد أسباب تلوث المياه ؟

1 تسريب البترول

2 إلقاء مخلفات المدن والمصانع في البحر

3 إلقاء مياه الصرف الصحي

4 إلقاء مياه التبريد

الاسم : ..... الصف:- السابع / ..... المادة:- الدراسات الاجتماعية



## أوراق العمل تجميع

السؤال الأول : اختر الإجابة الصحيحة بوضع علامة ☒ في المربع المقابل لها:-

1- يؤدي التوسع العمراني الى تلوث :

الهواء

☐

البحار

☐

التربة



2- تتعرض مياه البحار للتلوث بسبب :

الثورات البركانية

☐

القاء مخلفات المدن

☐

قطع الغابات



السؤال الثاني: اقترح حلول لمواجهة تلوث الهواء

1 استخدام وسائل النقل النظيفة مثل السيارات الكهربائية

2 استخدام مصادر الطاقة المتجددة

3 التخلص الآمن من النفايات

4 زيادة المساحات الخضراء

السؤال الثالث : اقترح حلول لمواجهة تلوث الماء

1 معالجة المياه صناعية الملوثة ومياه الصرف الصحي

2 توعية المواطنين بأهمية المحافظة على المياه من التلوث

3 القيام بتحاليل دورية للمياه

السؤال الرابع : اقترح حلول لمواجهة تلوث التربة

1 التوسع في زراعة الأشجار

2 الحد من استخدام المبيدات والاسمدة الكيماوية

3 تشجيع البحث والتطوير في مجال مكافحة تلوث التربة

4 إعادة التدوير للمخلفات المضرّة بالبيئة

المادة:- الدراسات الاجتماعية

لصف:- السابع / .....



### أوراق العمل تجميع

**السؤال الأول:-** أذكر اسم المعاهدات والاتفاقيات الدولية المتعلقة بالنواحي التالية :

ستوكهولم

الحد من استخدام الملوثات العضوية الثابتة

فيينا

حماية طبقة الأوزون

أعالي البحار . اتفاقية حماية التنوع البيولوجي البحري

باريس

مكافحة تغير المناخ

### **السؤال الثاني :-**

1- وضح جهود دولة قطر للحفاظ على البيئة

1 سن القوانين والتشريعات التي تساهم في المحافظة على البيئة.

2 إنشاء العديد من المحميات الطبيعية بغرض حماية وصيانة الأنظمة البيئية

ومكوناتها.

3 تنظيم صيد الحيوانات والطيور والزواحف البرية ومنع صيد الأسماك في

أوقات التكاثر.

4 الانضمام للاتفاقيات الإقليمية والدولية الخاصة بحماية البيئة.

5 زيادة الرقعة الخضراء بالدولة لتقليل تلوث الهواء .



## أوراق العمل لجميع

عدد أنواع التغير الاجتماعي في المجتمع القطري ؟

أ- الكمي

ب النوعي

2- وضح أثر عوامل التغير الاجتماعي التالية في المجتمع القطري .

1الاقتصادي.

- 1 انتقل المجتمع من مجتمع يمارس الأنشطة المحدودة الى مجتمع تتنوع فيه الأنشطة الاقتصادية
- 2 ظهور التخصصات المختلفة التي لم تكن موجودة مسبقا
- 3 ارتفاع مستوى المعيشة وتغير أنماط الاستهلاك

2-التعليم :

يشكل سبب من خلال ما يحدثه من تغييرات في الاتجاهات  
مثل تغيير حجم الاسرة من ممتدة الى نووية وتغيير تقاليد الزواج  
والنظر الى المرأة وعملها

الصف : السابع

الاسم .....



## أوراق العمل تجميع

التاريخ 2025/4/

المادة : الدراسات الاجتماعية

السؤال الأول: بم تفسر كل مما يلي :

1\_ تسمية الحروب الصليبية بهذا الاسم

بسبب اتخاذهم الصليب شعارا لهم

2\_ دعوة البابا للأوروبيين السيطرة على القدس

بسبب ادعائه ظلم المسلمين للمسيحيين في الشرق الاسلامي

السؤال الثاني : عدد أسباب و دوافع الحملات الصليبية .

1 دينية

2 سياسية

3 اجتماعية

4 اقتصادية

السؤال الثالث : عرف الحروب الصليبية

"هي تلك الحروب التي شنتها أوروبا ضد المسلمين واتجهت الى بلاد الشام

ومصر واستمرت قرنين من الزمان (1096\_1291)"

المادة:- الدراسات الاجتماعية

الصف:- السابع / .....

السؤال الأول : ضع دائرة حول الإجابة الصحيحة :



## أوراق العمل تجميع

نجاح في الانتصار على الصليبيين في معركة حطين عام 1187 م :

أ - الكامل

ب- نور الدين

ج- عماد الدين

د- صلاح الدين

القائد المسلم الذي قام بتحرير بيت المقدس :

أ - عماد الدين زنكي

صلاح الدين الايوبي

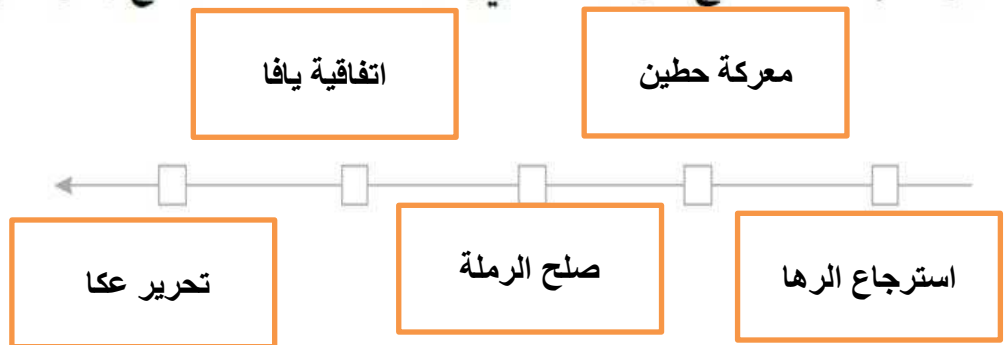


ج- الكامل الايوبي

د- العادل الايوبي

السؤال الثاني : رتب الاحداث على الخط الزمني :

معركة حطين - صلح الرملة - تحرير مدينة عكا - استرجاع إمارة الرها - اتفاقية يافا.







## أوراق العمل تجميع

المادة:- الدراسات الاجتماعية

الصف:- السابع / .....

- بم تفسر ، الغزو المغولي للعالم الإسلامي ؟

رغبة المغول في التوسع وبناء امبراطورية عالمية لهم

عداء المغول للدين الاسلامي

رغبة المغول في الاستيلاء على ثروات المسلمين

استغلال حالة ضعف المسلمين

### 3- قارن بين معركتي حطين وعين جالوت من حيث قائد المسلمين والنتائج .

وجه المقارنة	معركة حطين	معركة عين جالوت
قائد المسلمين	صلاح الدين الايوبي	سيف الدين قطز
النتائج	1 استعادة بيت المقدس 2 استعادة المدن الساحلية 3 ثقة المسلمين بأنفسهم	1 وقف تمدد خطر المغول 2 الوحدة بين بلاد الشام ومصر 3 اسلام عدد كبير من المغول



## أوراق العمل تجميع

### السؤال الأول: اختر الإجابة الصحيحة من بين البدائل الآتية:

1- توخَّذ المغول على يد قائدهم:

- أ- كتبغا.      ب- هولكو.  
ج- بركة خان.      د- جنكيز خان.

2- كانت أولى المناطق الإسلامية التي استولى عليها المغول هي:

- أ- خوارزم.      ب- بلخ.  
ج- خراسان.      د- دمشق.

3- تطلَّع هولكو بعد سيطرته على بلاد الشام إلى غزو:

- أ- مصر.      ب- تونس.  
ج- المغرب.      د- السودان.

4- القائد الذي قضى على الخطر المغولي هو:

- أ- الظاهر بيبرس.      ب- سيف الدين قطز.  
ج- الصالح نجم الدين.      د- محمد بن قلاوون.

السؤال الثاني : اذكر نتائج معركة عين جالوت .

1- وقف تمدد الخطر المغولي

2 - عادة الوحدة بين مصر وبلاد الشام تحت حكم المماليك

3 - أنقذت ما تبقى من الحضارة الإسلامية من الضياع

4 - إسلام عدد كبير من المغول



## أوراق العمل تجميع

### السؤال الأول: اختر الإجابة الصحيحة للعبارات الآتية:

- 1 - تكفل الدولة الحقوق لمواطنيها عن طريق:  
أ- إصدار القوانين. ☒  
ب- تنظيم الحُرِّيَّات. ☐  
ج- إصدار النشرات. ☐  
د- تنظيم السُّلطات. ☐
- 2 - شارك الشعب القطري في 5 نوفمبر 2024م في :  
أ- الاستفتاء على الدستور ☒  
ب- صدور الدستور الدائم. ☐  
ج- استفتاء على التعديلات الدستورية. ☐  
د- انتخابات المجلس البلدي. ☐
- 3 - يتمثل دور وزارة الصحة العامة في دولة قطر في:  
أ- تقديم الخدمات العلاجية. ☐  
ب- تقديم الخدمات الوقائية. ☐  
ج- توفير الرعاية الصحية العامة. ☒  
د- تنظيم الرعاية الصحية في القطاعين العام والخاص. ☐
- 4 - تتحقق حماية المال العام من خلال:  
أ- الاعتزاز بالزي الوطني. ☐  
ب- الدفاع عن أمن واستقرار الوطن. ☐  
ج- عدم العبث بلوائح المرور بالشارع. ☒  
د- تجنب مزاحمة الآخرين في الطُرُقَات. ☐

### السؤال الثاني: ما أهم الحقوق العامة التي كفلها الدستور القطري؟

- 1 المساواة أمام القانون
- 2 المشاركة السياسية
- 3 حق الصحة
- 4 حق التعليم



## أوراق العمل تجميع

( السؤال الأول: عرّف:

1 - الحُرِّيَّات المدنيَّة:

حقوق يتمتع بها الفرد كونه مواطناً في الدولة طبقاً لأحكام الدستور والقانون فيها

( السؤال الثاني: اذكر نماذج من الحُرِّيَّات التي أكَّد عليها الدستور القطري.

1 الحرية الشخصية 2 حرية الرأي 3 حرية العبادة 4 الحرية الاقتصادية  
5 حرية تكوين الجمعيات

السؤال الثالث : وضح أهداف كفالة الدستور القطري لحرية النشاط الاقتصادي .

أ - زيادة الإنتاج.

ب- رفع مستوى المعيشة.

ج- توفير فرص العمل.

د - تحقيق التنمية الاقتصادية والاجتماعية.